

Е. ЖАРСЬКИЙ

# ГЕОГРАФІЯ УКРАЇНИ

ЗОШИТ ДЛЯ ВПРАВ

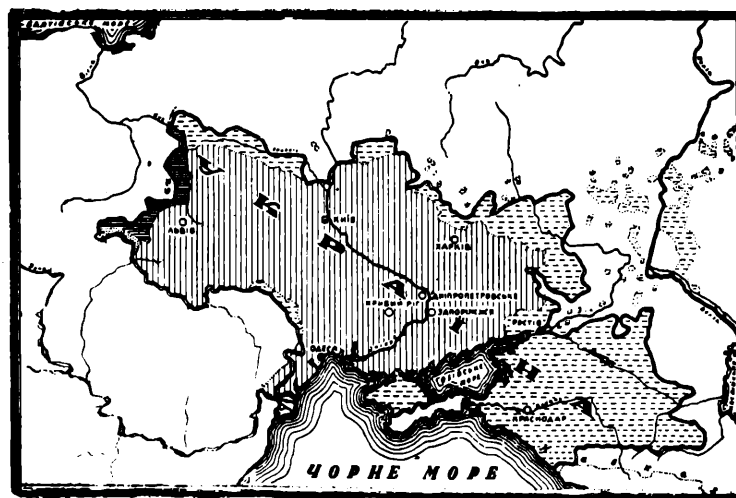


ВИДАВНИЦТВО ШКІЛЬНОЇ РАДИ  
Нью-Йорк — 1987

Е. ЖАРСЬКИИ

# ГЕОГРАФІЯ УКРАЇНИ

ЗОШИТ ДЛЯ ВПРАВ



ВИДАВНИЦТВО ШКІЛЬНОЇ РАДИ

Нью-Йорк — 1987

## ШКІЛЬНА РАДА ПРИ УККА

Всі права застережені за Видавництвом Шкільної Ради

Copyright © 1987 by Educational Council — U.C.C.A.

Адреса Видавництва:

Educational Council — U.C.C.A.  
P.O. Box 391 — Cooper Station  
New York, N. Y. 10276-0391

### ПОЯСНЕННЯ

На кожній мапі треба виконати певні завдання. Перед виконанням вправи прочитайте уважно завдання й з'ясуйте, що треба зробити. Для розфарбовування мал вживайте м'які кольорові олівці. Написи треба робити чорнилом, чітко, дбайливо і розбірливо.

### ЗАВДАННЯ

1. **Межі України.** Позначіть міста, оселі, ріки чи гори, якими переходять межі території заселеної українським народом. Кольоровим олівцем зазначіть площу, що її заселює український народ. Зазначіть держави чи народи, з якими сусідують українці.

2. **Гори, височини й низини України.** Розфарбуйте та позначіть гори (бурим кольором), височини (жовтим), низини (зеленим), моря (синім). Кольори поясніть внизу мапи.

3. **Клімат України.** На мапі „Температура січня” зафарбуйте в синій колір ці землі України, де в січні є найбільш холодно, а в червоний колір де є тепліше. Що вчитуєте з мапи?

4. Подібним способом розфарбуйте і мапу „температури липня”.

5. На мапі „Атмосферичні опади” темно-синім кольором зафарбуйте ці землі України, де найбільше опадів (дощів), синім — де опадів менше, а ясно-синім де їх найменше. Поясніть кольори внизу. Що вчитуєте з мапи?

6. **Ріки України.** Різними кольорами розфарбуйте сточища Чорного моря, Каспійського моря та Балтійського моря. Поясніть кольори внизу. Позначіть важніші ріки України.

7. **Рослинність України.** Різнокольоровими олівцями розфарбуйте рослинні смуги України (лісову, лісостепову, степову, півпустинну, пустинну, середземноморську, гірську, альпійську). Кольори поясніть внизу мапи. Зазначіть околиці, де проживають важніші тварини України (бобри, зубри, бабаки, сугаки, ведмеді й ін.).

8. **Підземні багатства України.** Різними кольорами позначіть площі залягання важних корисних копалин України. Кольори поясніть внизу мапи. Впишіть назву місцевостей, де видобувають корисні копалини; відповідними знаками зазначіть які це копалини. Поясніть знаки внизу.

9. **Населення.** Різними кольорами зазначіть найгустіше заселені та менш заселені простори України. Кольори поясніть внизу мапи. Впишіть назви важливіших міст України.

10. **Хліборобство на Україні.** Різними кольорами зазначіть посіви важніших сільсько-господарських культур України (пшениці, жита, кукурудзи, цукрового буряка, льону, конопель). Поясніть кольори.

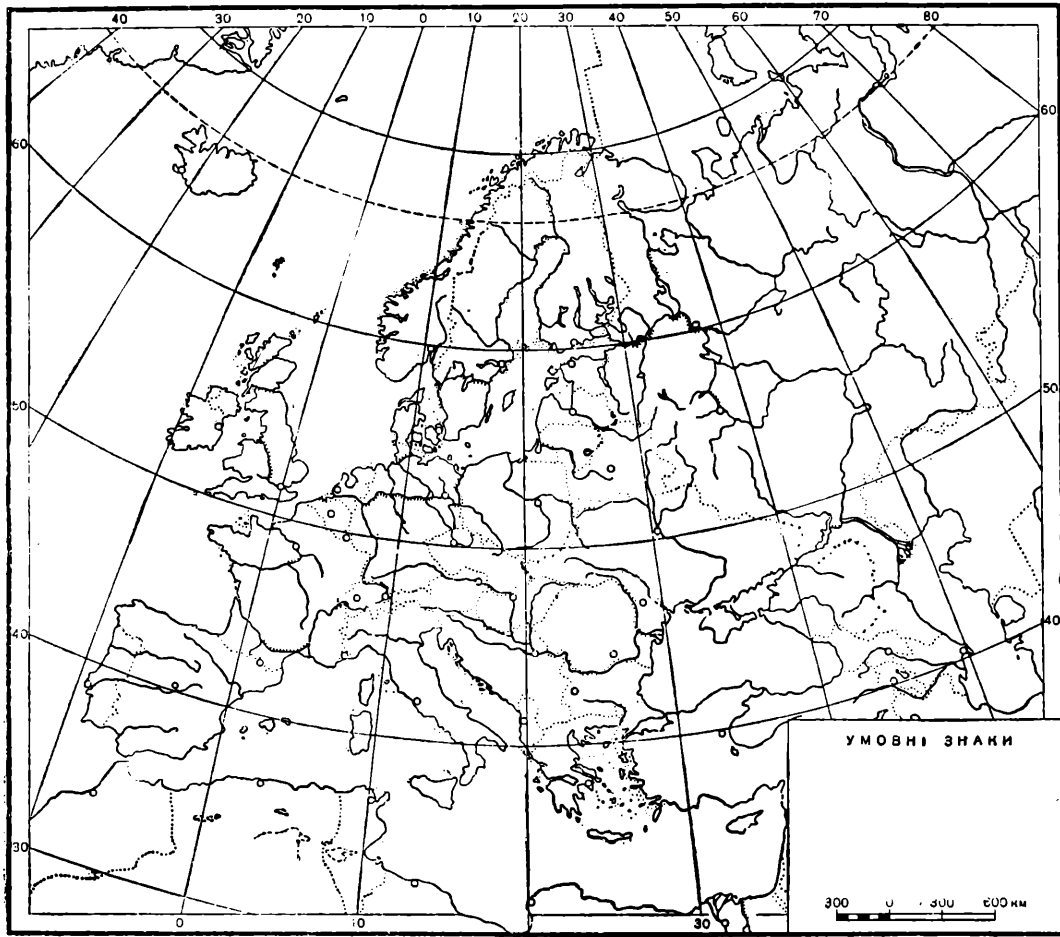
11. **Промисл на Україні.** Позначіть важливіші промислові осередки України та поясніть, що в них виробляють.

12. Використовуючи рисунки на останній сторінці — уложіть відповідні діаграми, для: а) виявлення кількості населення в Україні та в інших державах західної Європи; б) видобутків вугілля в Україні та в Європі; в) продукції збіжжя; г) уложіть діаграму на довільну тему.

Зазначіть поділку (напр.:



= 2 міл.).



**ПОЛОЖЕННЯ УКРАЇНИ**

1. На цій контурній карті Європи зафарбуйте моря і океан в синій колір. Надпишіть відповідні назви.

2. Позначте площу України. Які моря творять південну межу України? — Відповідь: Південну межу України .....

3. Різними кольорами зафарбуйте площі, що на них живуть сусіди України. Позначте їх цифрами, а тут запишіть: .....

4. Покажіть півострів, з якого прийшли на Україну варяги. Протслідіть їхній шлях на Україну.

5. Позначіть на карті столицю України. Найдіть важніші міста, що лежать близько цього самого ступня, півн. шир., а тут запишіть їх: .....

1. На цій контурній карті східньої півкулі позначте умовну границю Європи на сході.

2. Зафарбуйте океани в синій колір. Надпишіть відповідні назви океанів.

3. На цій же контурній карті великими буквами позначте материки, а тут запишіть їх назви: .....

4. Позначте площу України. В якій частині світу положена Україна? — Відповідь: Україна положена в .....

## МЕЖІ УКРАЇНИ

На контурній карті „Межі України” позначте важніші міста, ріки чи гори, якими переходять межі території, заселеної українцями, а тут запишіть їх назви: .....

Що творить південну межу України- — **Відповідь:** Південну межу України твор .....

З ким межує Україна на південному заході? — **Відповідь:** На південному заході межує Україна з ..... Позначте на карті межу з румунами, а тут запишіть місця проходження кордону: .....

Подібним способом зазначте й інші кордони України з її сусідами:

Українсько- .....

Українсько- .....

Українсько- .....

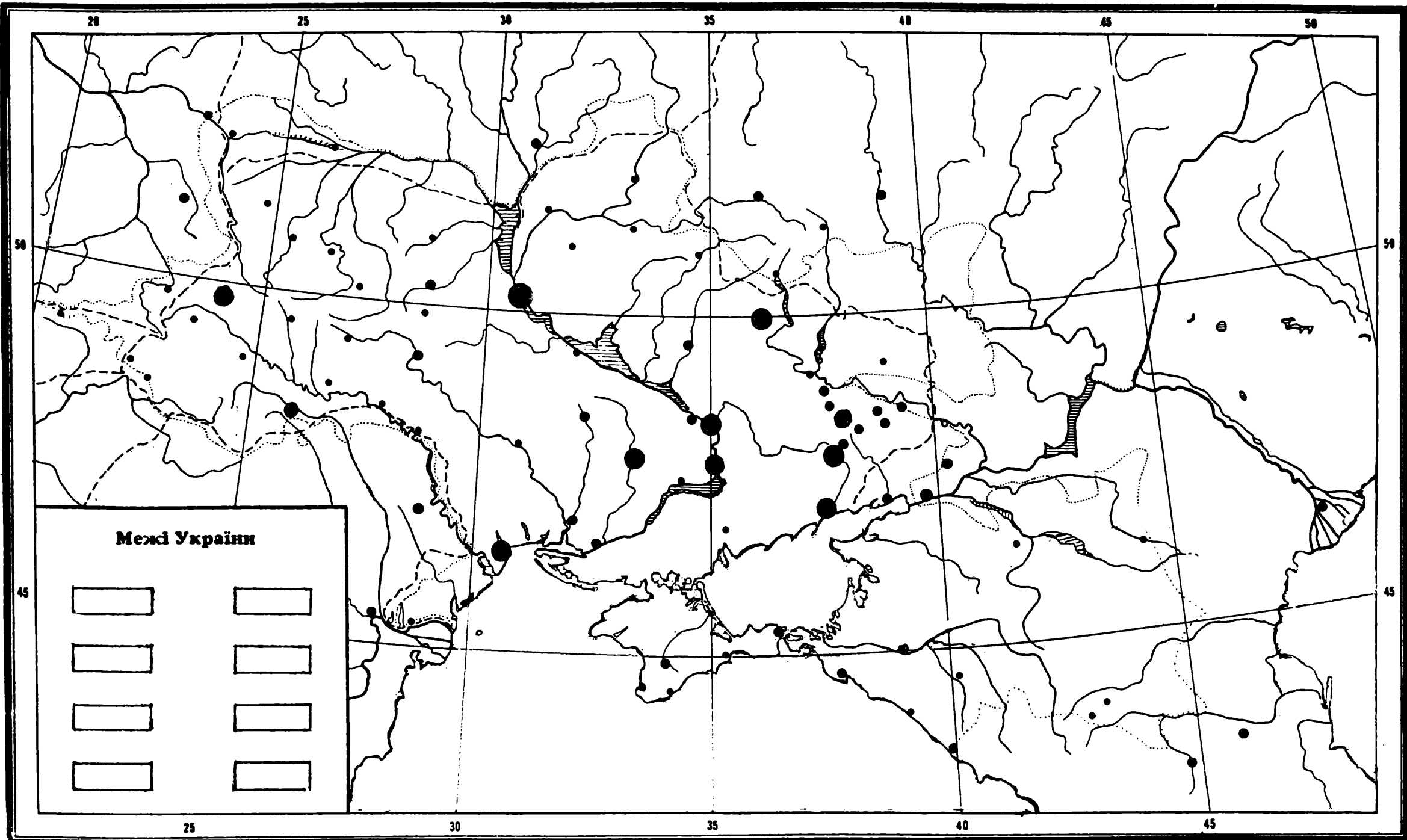
Українсько- .....

Українсько- .....

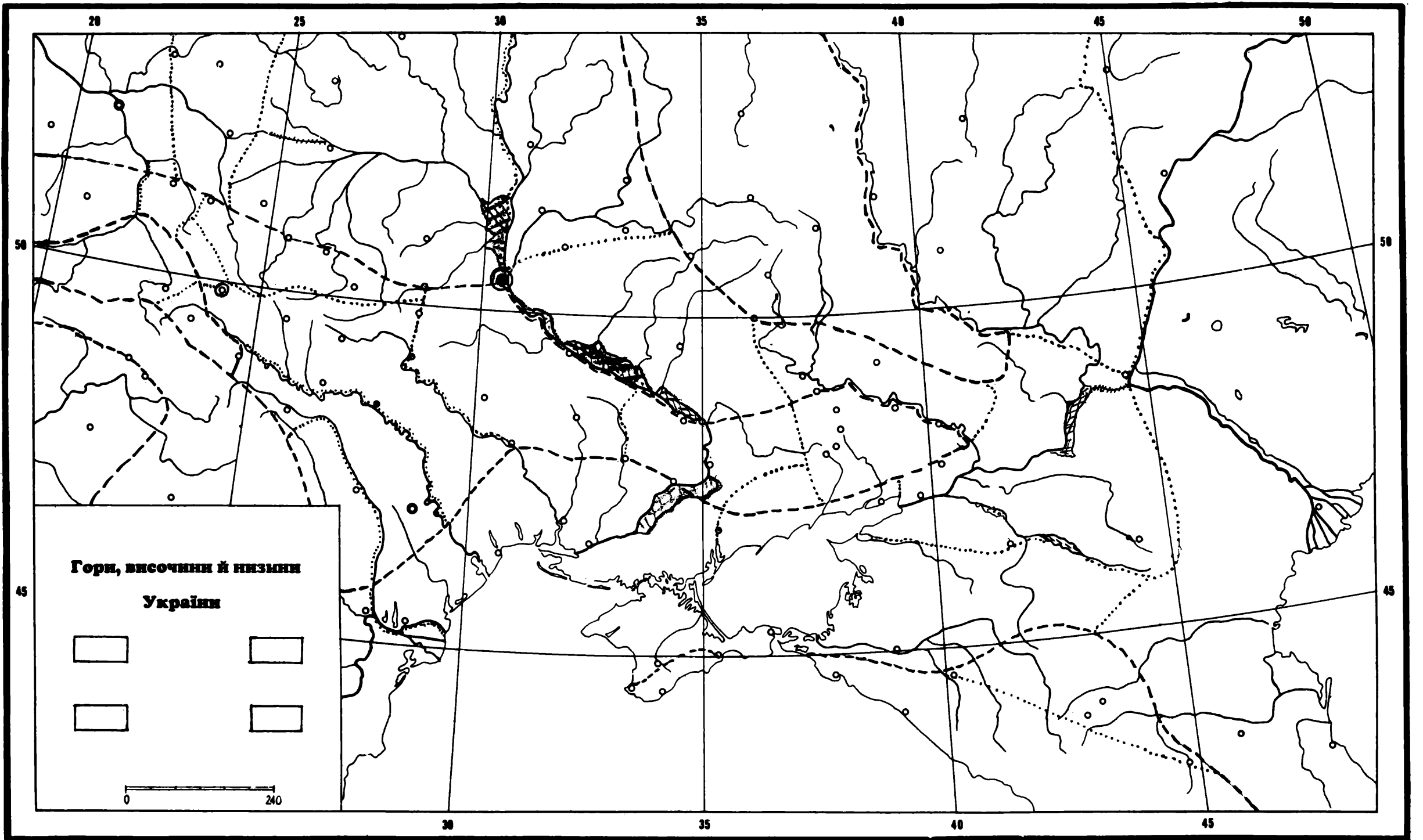
Зазначте кордони сучасної державної території УРСР. Яка різниця між етнографічною і державною територіями? —

Яка різниця між кордонами? — **Відповідь:** .....

Дискусія в класі на тему: „Як і чому змінювалися кордони України”? — Висліди дискусії зберіть у точки й тут запишіть. 1. ....









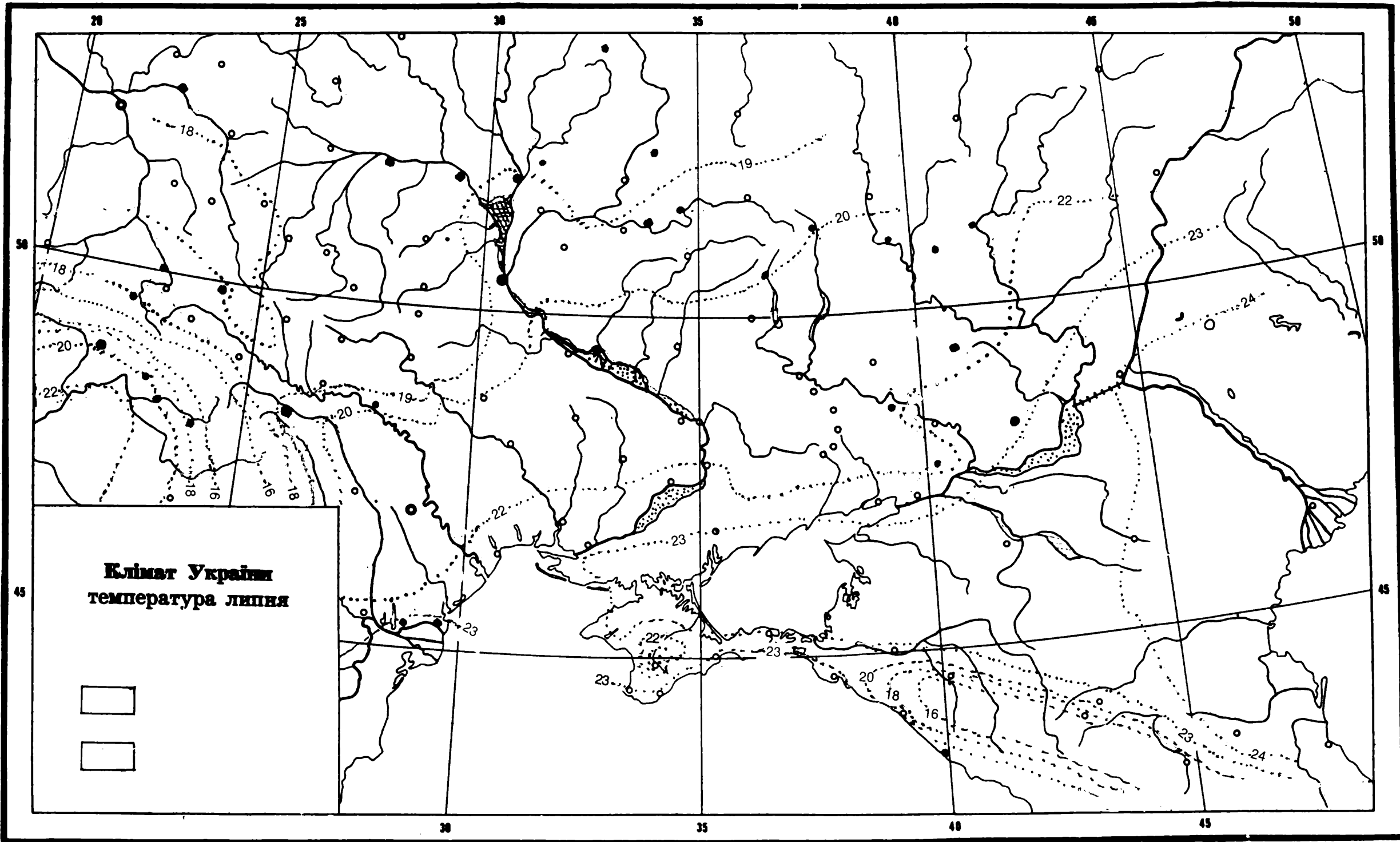
## КЛІМАТ УКРАЇНИ



На залученій контуровій карті „Ізотерми липня” (тобто ліній, що переходять через місця з однаковою температурою) нарисуйте лінії рівних пересічних температур у липні. Зафарбуйте в синій кольор ці землі України, де в липні є помірно гаряче, а в червоний кольор, де в липні є найбільш високі температури. Що вчитасте з карти? — Відповідь: Помірковане гаряче літо є на .....  
землях України. Найбільш високі температури є за те на .....

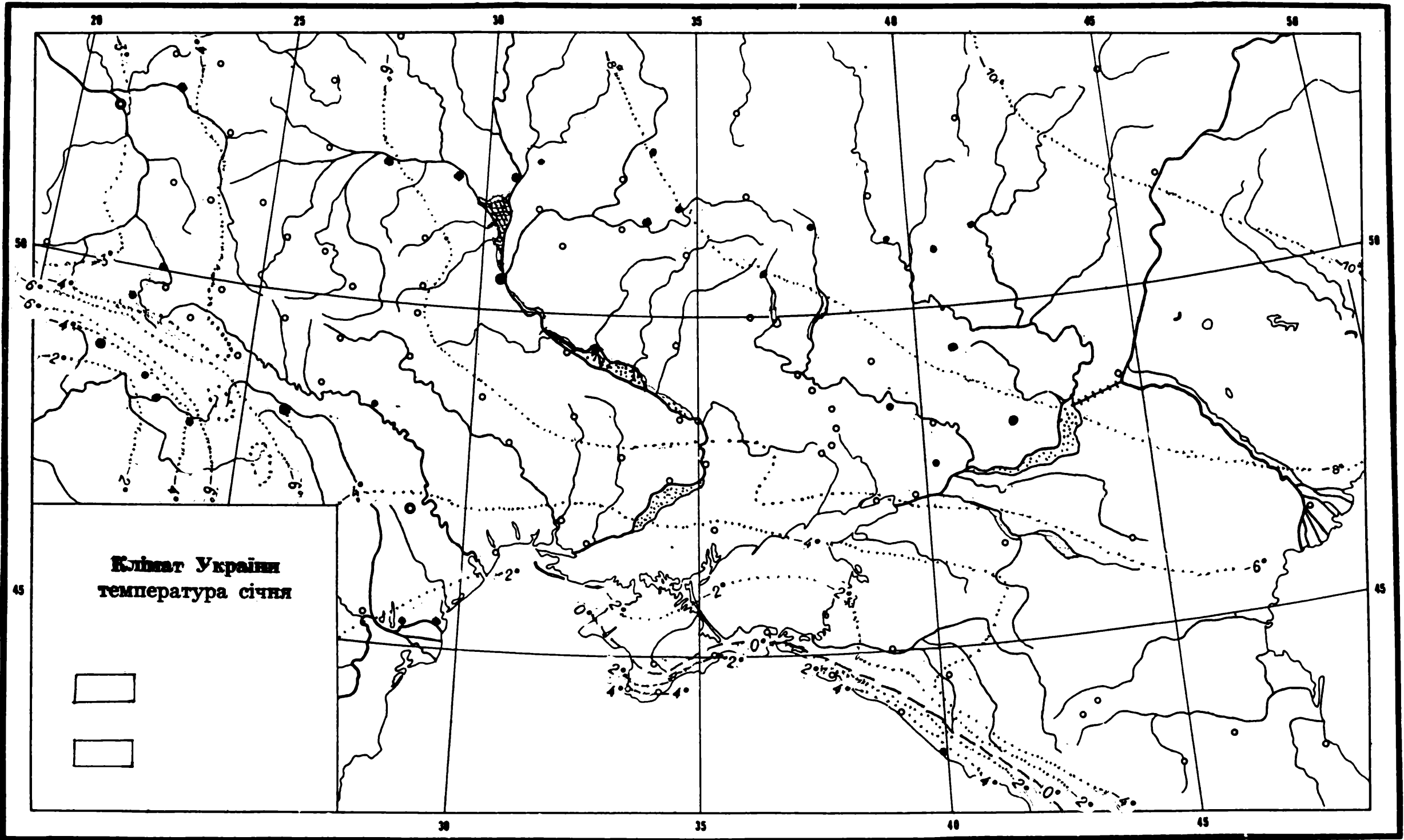
Подібним способом зазначте на карті „Ізотерми січня” найбільш холодні землі України і ці землі, де температури в січні не такі низькі. Що вчитасте з карти? — Відповідь: Найнижчі температури в січні є .....

На контуровій карті „Атмосферичні опади” темно-синім кольором зафарбуйте ці землі України, де найбільше опадів, синім кольором де опадів менше, а ясно-синім кольором де їх найменше. Що вчитуєте з карти? — Відповідь: Найбільше опадів є .....

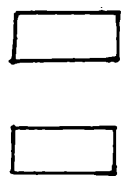
Які різниці в опадах находите упродовж року у Львові і Києві, Херсоні і Ялті? — Відповідь: У Львові і Києві опадів найбільше ..... у Херсоні .....  
Зате у Ялті найбільше опадів випадає .....



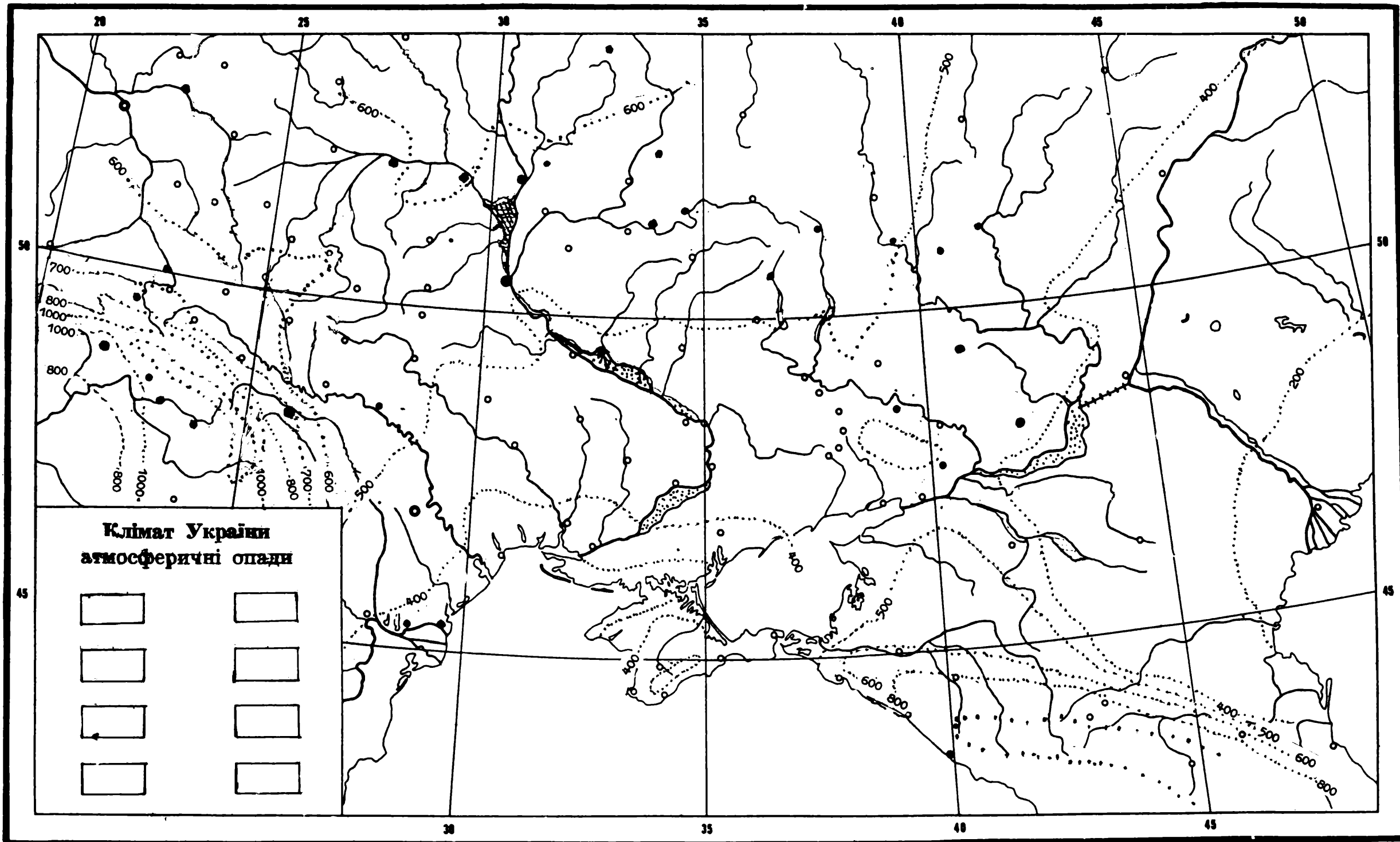




**Клімат України**  
**температура січня**





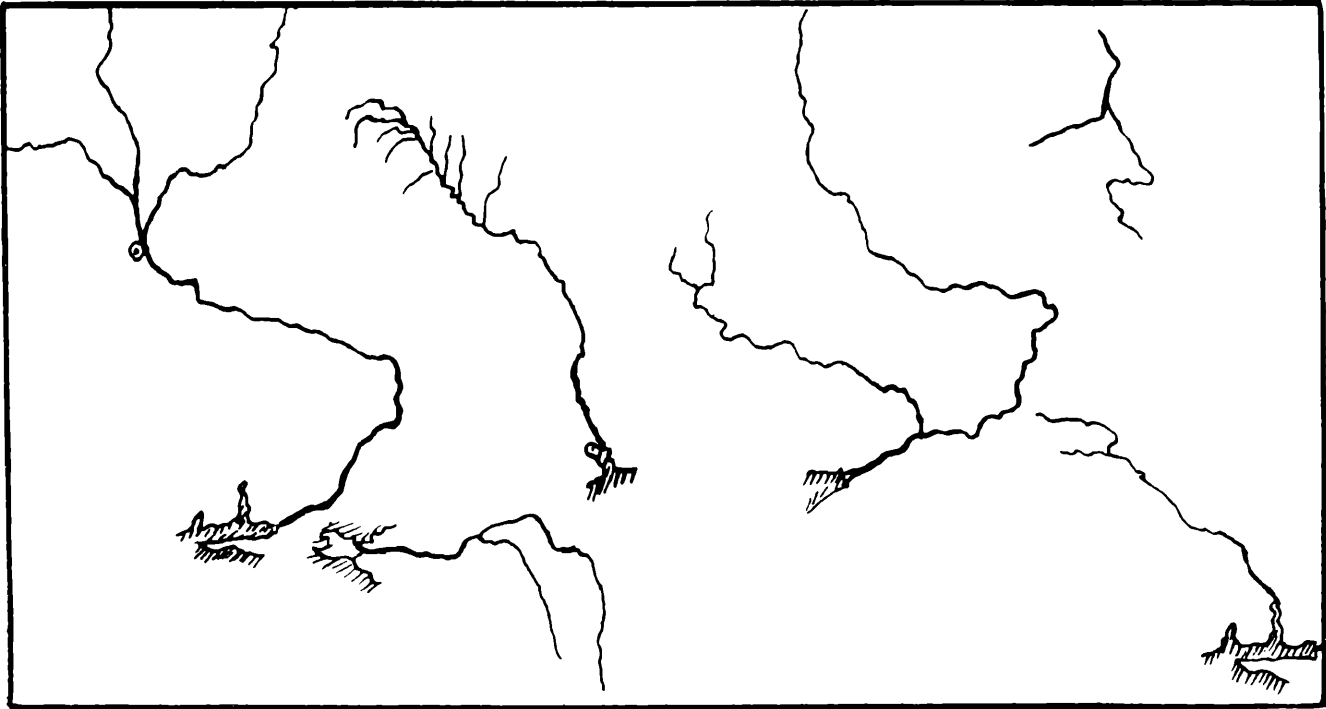


**Клімат України  
атмосферичні опади**

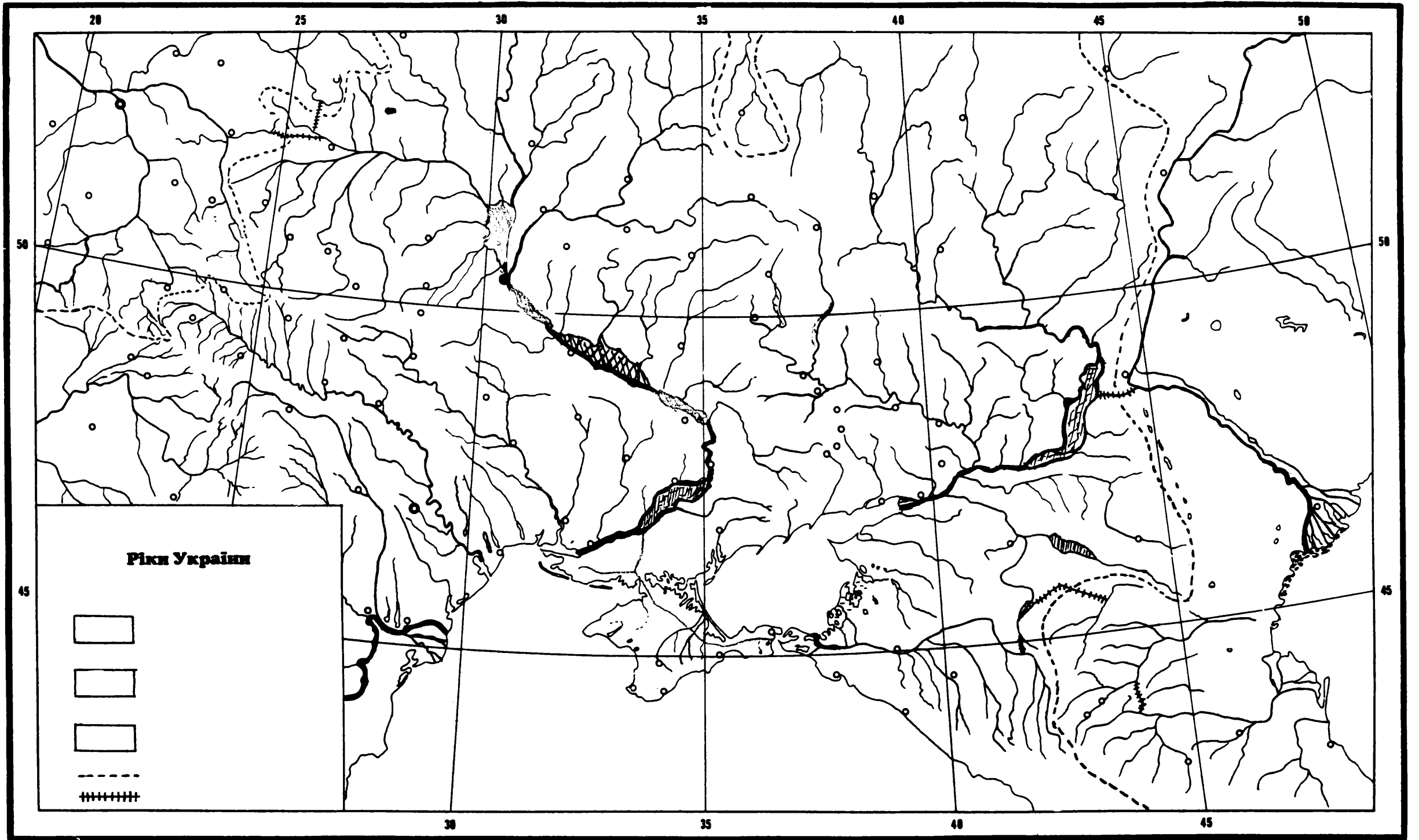

**РІКИ УКРАЇНИ**

- 1. На контурній карті надпишіть назви важніших рік України.
- 2. Обведіть лінією басейн Чорного, Озівського і Каспійського морів.
- 3. Які ріки України зображені на цьому рисунку? Понумеруйте їх і основні відомості про кожну із них запишіть в таблицю.
- 4. Як використовуються ріки України? Наведіть приклади.



Відповідь: \_\_\_\_\_  
 \_\_\_\_\_  
 \_\_\_\_\_  
 \_\_\_\_\_  
 \_\_\_\_\_  
 \_\_\_\_\_  
 \_\_\_\_\_  
 \_\_\_\_\_  
 \_\_\_\_\_  
 \_\_\_\_\_  
 \_\_\_\_\_  
 \_\_\_\_\_

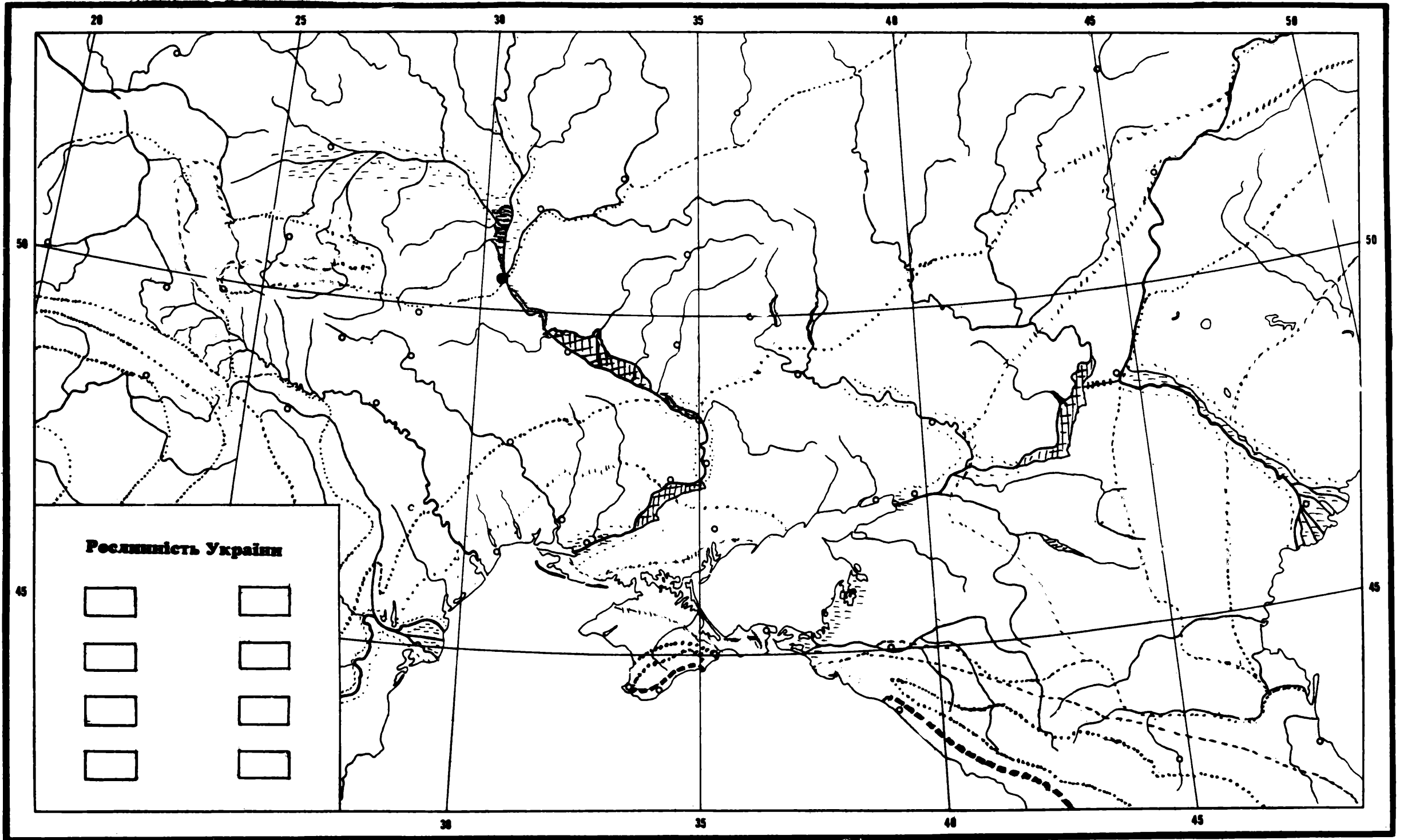


ч.	Назва ріки	Де починається	В яке море впадає	В якому тече напрямі

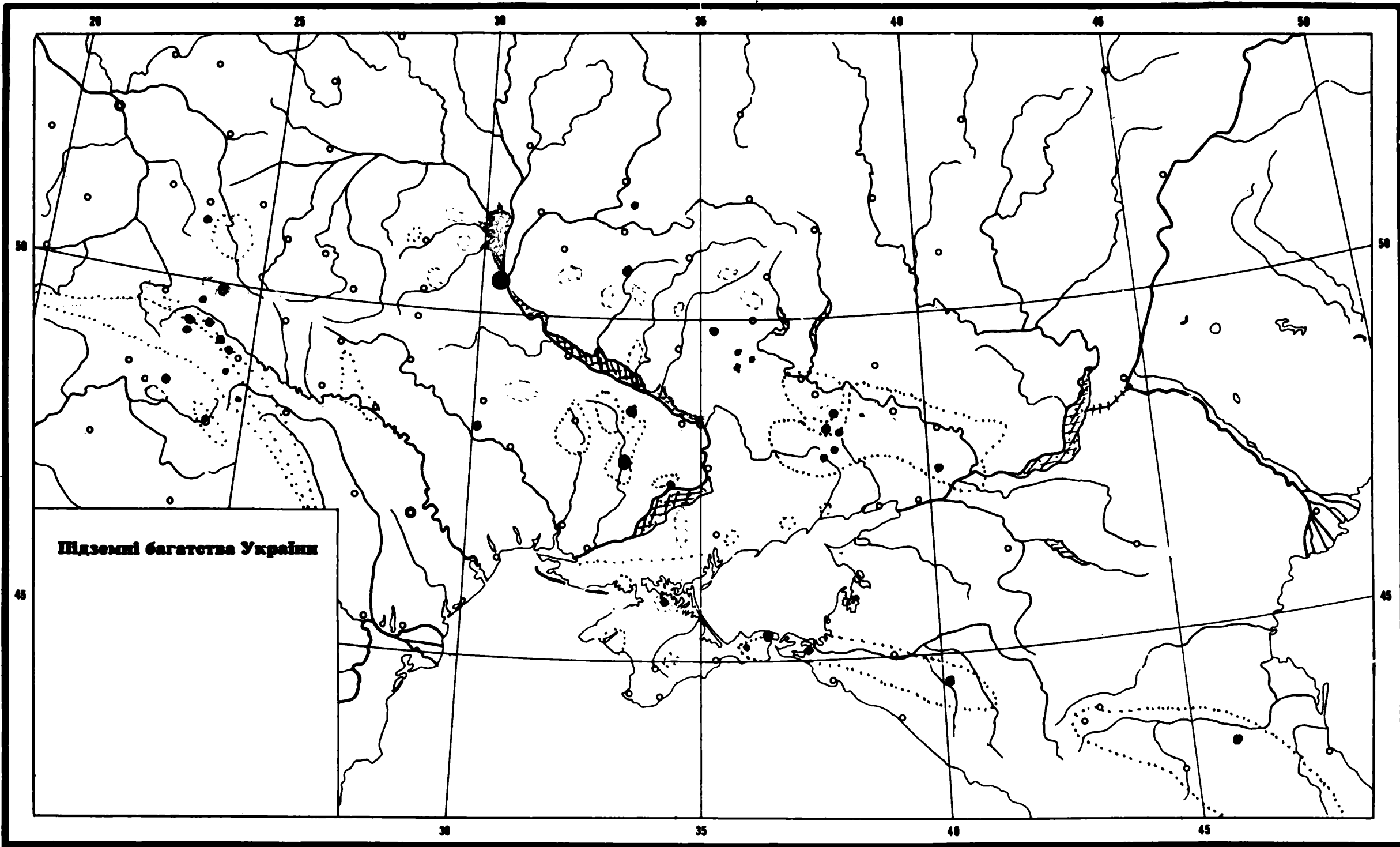












**Підземні багатства України**

## НАСЕЛЕННЯ УКРАЇНИ

1. Скільки на українських національних землях живе населення?

— **Відповідь:** На українських національних землях живе \_\_\_\_\_ населення.

2. Порівняйте кількість населення України з кількістю населення інших держав Європи і запишіть тут:

Німеччина \_\_\_\_\_ населення Англія \_\_\_\_\_ населення

Франція \_\_\_\_\_ населення Італія \_\_\_\_\_ населення

Іспанія \_\_\_\_\_ населення Румунія \_\_\_\_\_ населення

3. Нарисуйте тут відповідно високі квадратики (1 кв. 10 міл. населення) та складіть діаграму кількості населення України й інших країв Європи.

Україна Німеччина Франція Італія Іспанія Румунія

4. На контуровій карті „Населення” зазначте важніші міста України. Відповідно великими квадратами повинна бути зазначена кількість населення кожного міста.

5. На цій же карті розфарбуйте густоту населення. Подайте відповідні пояснення (легенда). В яких околицях України густота населення більша, а в яких менша? — **Відповідь:** Найгустіше заселена \_\_\_\_\_

\_\_\_\_\_

\_\_\_\_\_

\_\_\_\_\_

\_\_\_\_\_

\_\_\_\_\_

\_\_\_\_\_

\_\_\_\_\_

\_\_\_\_\_

\_\_\_\_\_

\_\_\_\_\_

\_\_\_\_\_

Які меншини живуть на Україні? — **Відповідь:** На Україні живуть: \_\_\_\_\_

На цій же карті „Населення” зазначте важніші залізничні лінії, а тут запишіть їх шляхи: \_\_\_\_\_

\_\_\_\_\_

Зазначте важніші транспортні вузли, а тут запишіть їх назви: \_\_\_\_\_

\_\_\_\_\_

Які райони України забезпечені залізницями? — **Відповідь:** \_\_\_\_\_

\_\_\_\_\_

Зазначте авіаційну сітку України. Зазначте важніші аеропорти. З якими містами найбільша комунікація і чому? — **Відповідь:** \_\_\_\_\_

\_\_\_\_\_

Зазначте водні шляхи України. Яке було їх значення в давнину а яке тепер? — **Відповідь:** \_\_\_\_\_

\_\_\_\_\_

Зазначте важніші річкові порти, а тут запишіть їх назви: \_\_\_\_\_

\_\_\_\_\_

Зазначте канали, а тут запишіть їх назви: \_\_\_\_\_

\_\_\_\_\_

Зазначте морські порти України, а тут запишіть їх назви: \_\_\_\_\_

\_\_\_\_\_

Яке їхнє значення для торгівлі України? — **Відповідь:** \_\_\_\_\_

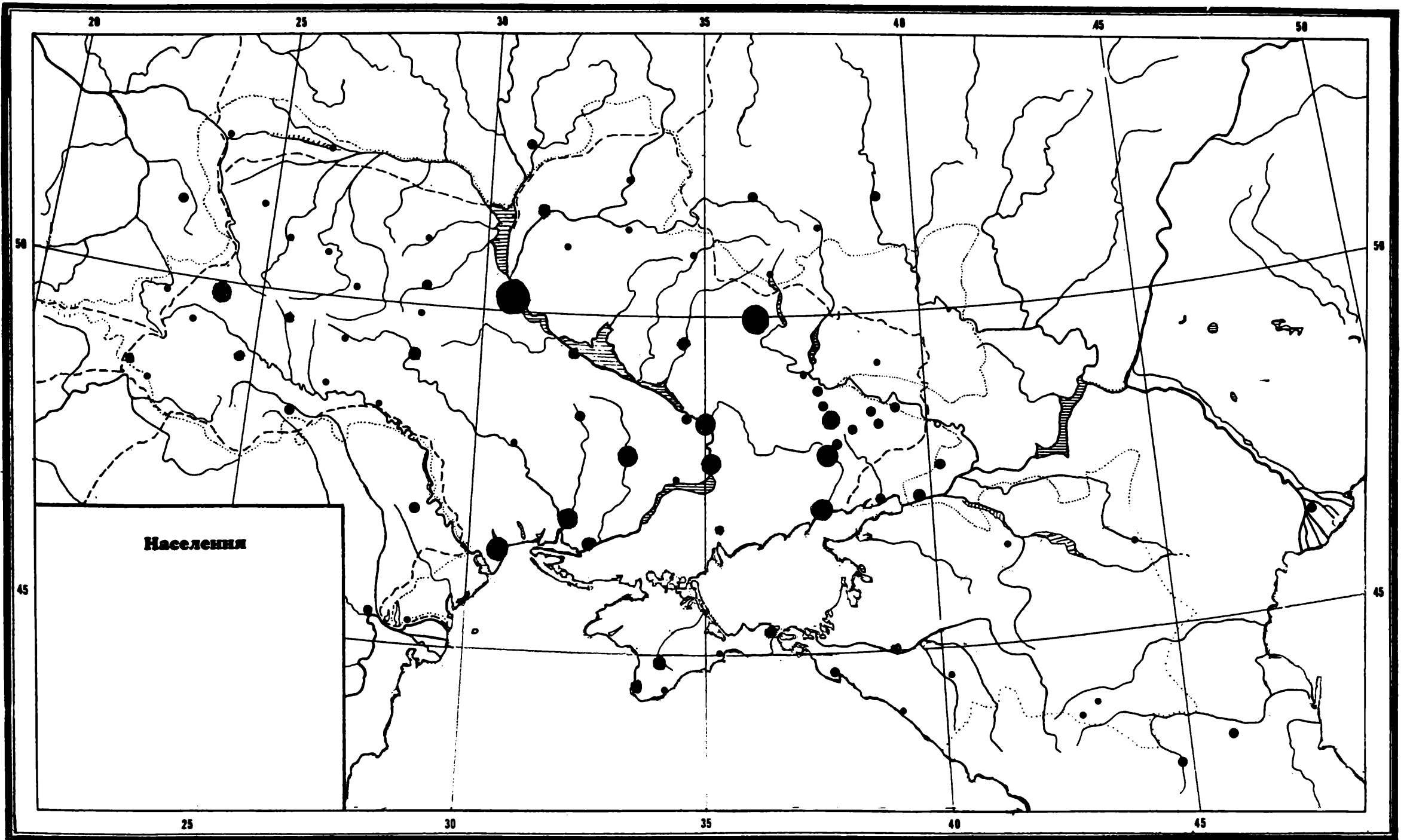
\_\_\_\_\_

\_\_\_\_\_

\_\_\_\_\_

\_\_\_\_\_

\_\_\_\_\_



## ГОСПОДАРСТВО УКРАЇНИ

1. На конкурсовій карті України „Хліборобство на Україні” зазначте відповідними кольорами сільськогосподарські райони України. Дайте відповідні пояснення до карти. Чим відрізняються вони між собою та який їх зв'язок з рослинними зонами України?

Відповідь: На півночі України, де виступають .....

На півдні України .....

В Криму зате .....

На сході України .....

В гірських районах .....

Довкруги більших промислових осередків .....

2. Зазначте на карті; території густіших посівів зернових культур, а тут запишіть:

озиму пшеницю сіють .....

яру пшеницю .....

жито .....

ячмінь .....

овес .....

гречку .....

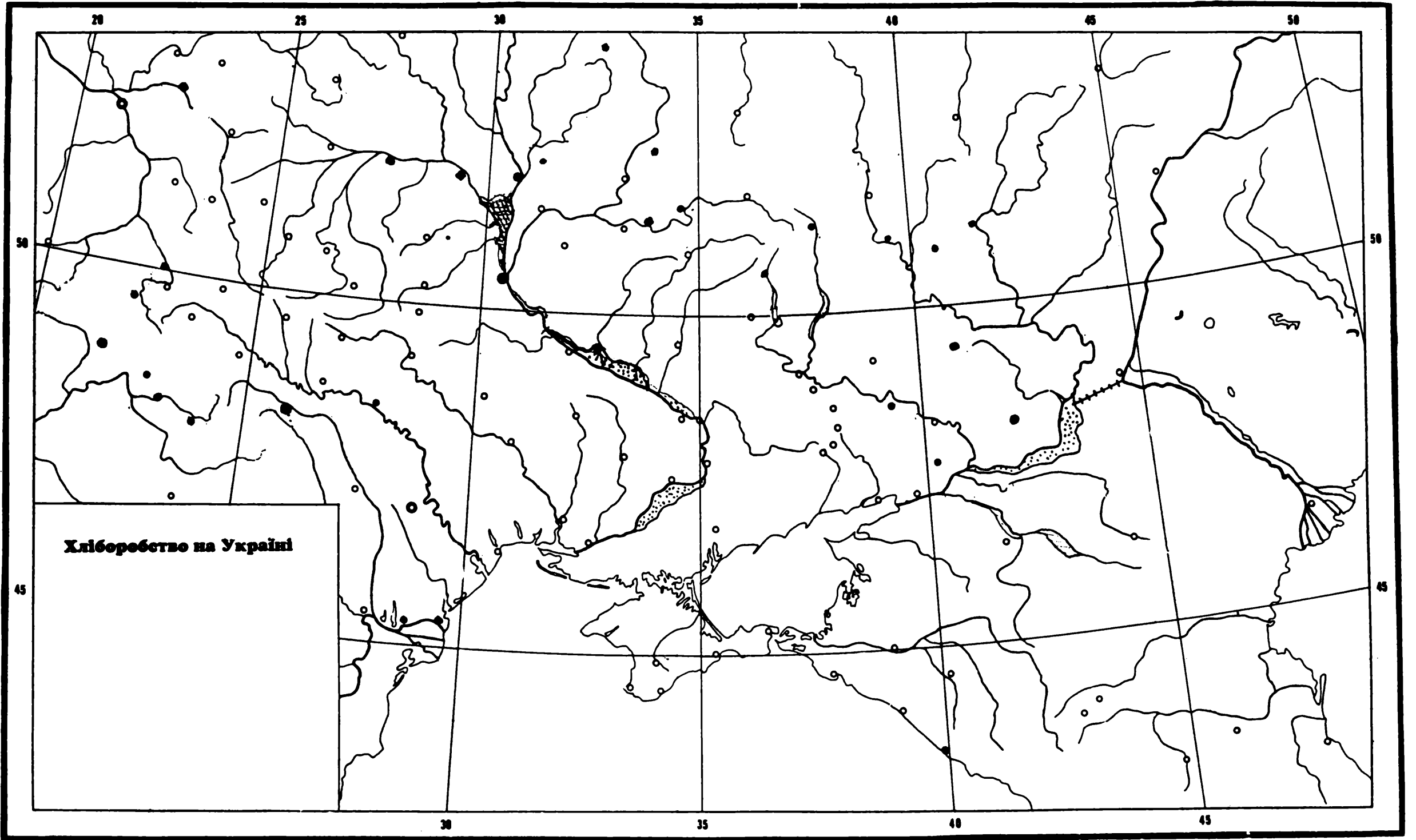
картоплю .....

кукурудзу .....

цукрові буряки .....

інші: .....

домашню худобу (корови, свині, вівці, коні) плекають. ....



**Хліборобство на Україні**



## ПРОМИСЛОВІСТЬ УКРАЇНИ

1. На контуровій карті „Промисл на Україні” зафарбуйте промислові центри України, а тут запишіть їх: .....

2. Чим пояснити таке їхнє розміщення? — Відповідь: Пояснюється це тим, що , .....

3. Яка промисловість і де розвинулася в Україні? \*Відповідними умовними знаками позначте їх на карті, а тут дайте відповідь: металургійна промисловість .....

сільсько-господарські машини: .....

вантажні авта: ..... легкі авта: .....

мотоциклі: .....

паротяги: .....

Залізничні вагони: .....

корабельні варстати: .....

електричні машини: .....

інші, а це: .....

Хемічна промисловість розвинена в .....

Харчева промисловість: .....

Цукроварство: .....

Млинарство: .....

Олійництво: .....

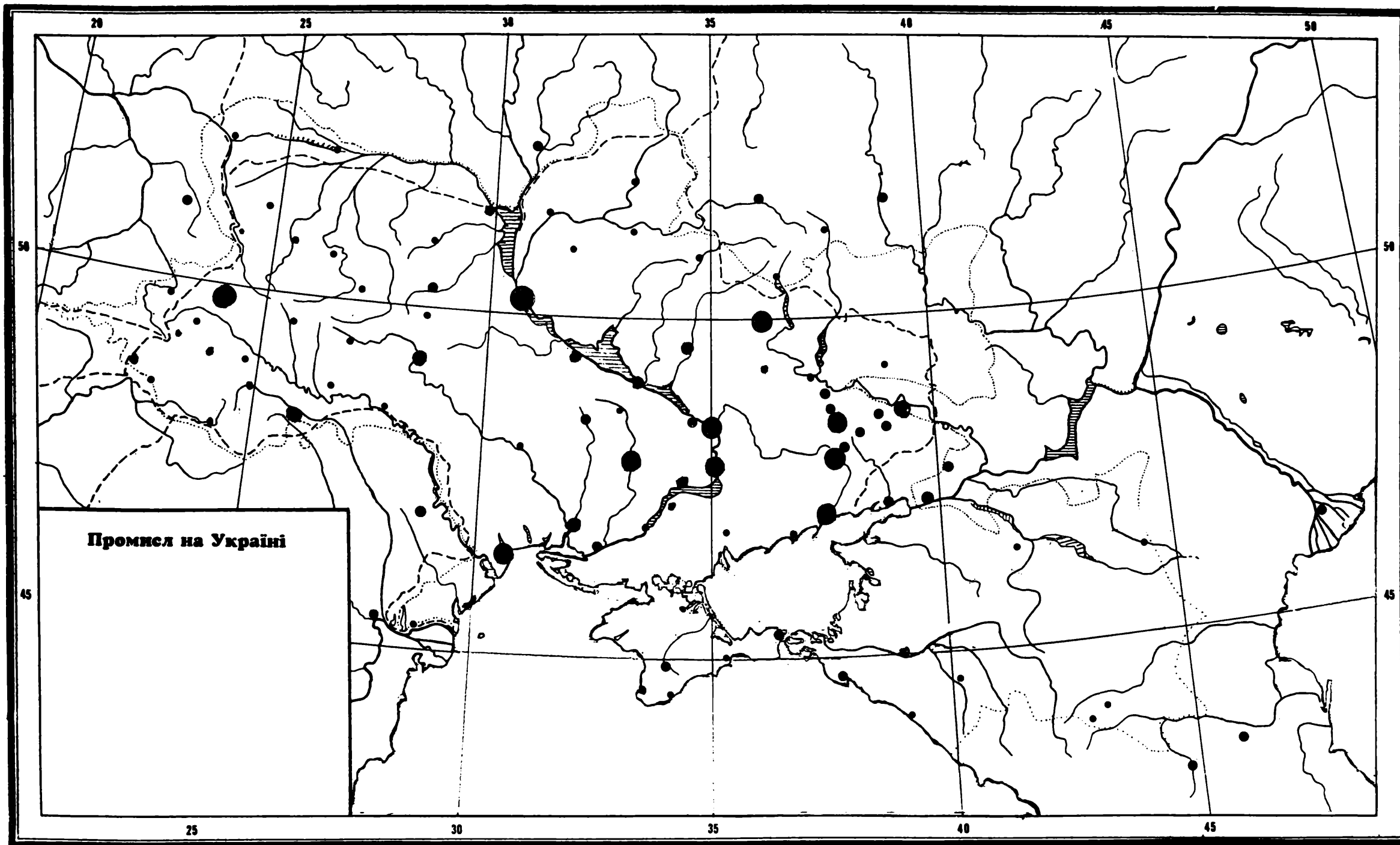
Гуральництво: .....



Консервна промисловість (яка): .....

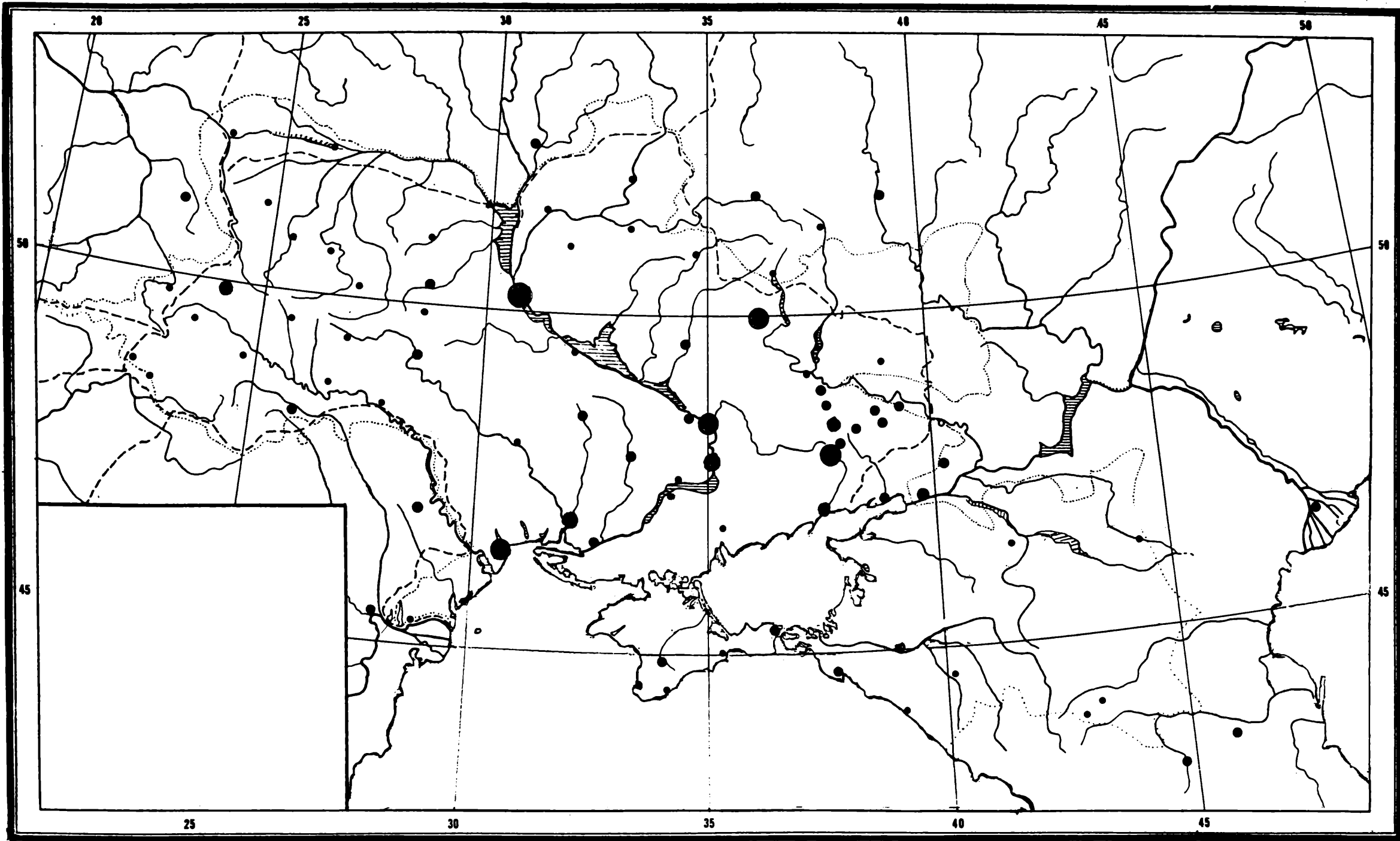
Одягова й обувна: .....



Текстильна: .....

Інша: .....









**УКРАЇНСЬКІ ПОСЕЛЕННЯ**

